

SOAL OSN EKONOMI TK PROPINSI TAHUN 2006

1. Di daerah-daerah tertentu di Kabupaten Gunung Kidul (Provinsi Daerah Istimewa Yogyakarta) dan di Kabupaten Timor Tengah Utara (Provinsi Nusa Tenggara Timur) harga air bersih/minum relatif lebih mahal dibandingkan di daerah lain. Hal ini lebih disebabkan karena di daerah-daerah tersebut:
 - a. penggunaan air oleh masyarakatnya berlebihan
 - b. biaya investasi dan operasi oleh perusahaan air minumnya tinggi
 - c. perusahaan air minum di daerah –daerah itu tidak efisien
 - d. air merupakan barang langka
 - e. airnya lebih bersih dan jernih dibandingkan air di daerah lain

2. Nowadays, farmers in villages are facing difficulties to find out livestock wastes to fertilize their fields. This phenomenon reflects that:
 - a. such wastes have become an economic problem
 - b. even villagers do not like the smell of their own livestock
 - c. villagers are no longer interested in catering livestock
 - d. villagers are forcedly utilize livestock wastes as staple foods
 - e. livestock in villages do not emits wastes anymore now

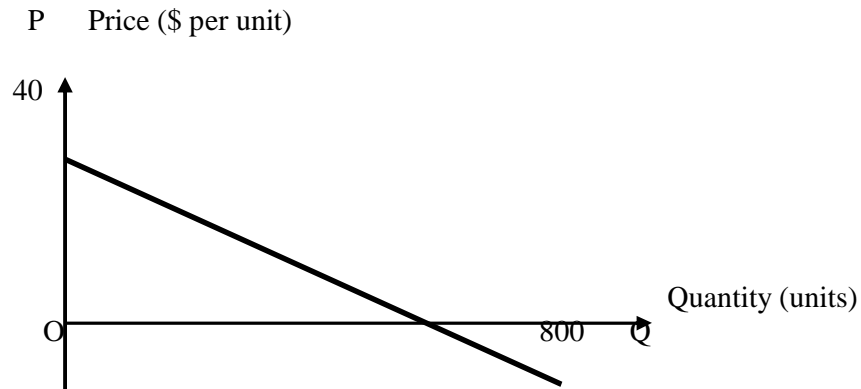
3. Tentukanlah mana di antara keadaan-keadaan di bawah ini yang mencerminkan masalah ekonomi:
 - a. rendahnya tingkat pendidikan penduduk dan produktivitas pekerja
 - b. usangnya mesin-mesin pabrik dan rendahnya kapasitas produksi
 - c. gencarnya penyelundupan barang dan peredaran uang palsu
 - d. tidak tercukupinya bahan kebutuhan pokok dengan harga terjangkau
 - e. semua hal yang disebutkan di atas

4. The followings are variables or factors that influence the demand for diskettes EXCEPT:
 - a. the price of a diskette
 - b. the price of a computer
 - c. the income level of people
 - d. the taste of consumers toward diskettes
 - e. the age of citizens

5. Permintaan akan durian di Medan ditunjukkan oleh persamaan $Q=80-2P$, sedangkan penawarannya dicerminkan oleh persamaan $Q = -120+8P$. Huruf P melambangkan harga durian (dalam ribuan rupiah per buah), Q melambangkan jumlah durian (dalam buah). Harga keseimbangan dan jumlah keseimbangan pasar durian di Medan masing-masing adalah:
 - a. harga = Rp20,00 per buah, sedangkan jumlah keseimbangan = 40 buah

- b. harga = Rp200,00 per buah, sedangkan jumlah keseimbangan = 40 buah
- c. harga = Rp2.000,00 per buah, sedangkan jumlah keseimbangan = 40 buah
- d. harga = Rp20.000,00 per buah, jumlah keseimbangan = 40 buah
- e. harga = Rp2.000,00 per buah, jumlah keseimbangan = 400 buah

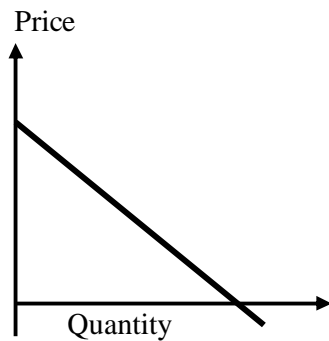
6. Please, pay your attention to the following demand curve:



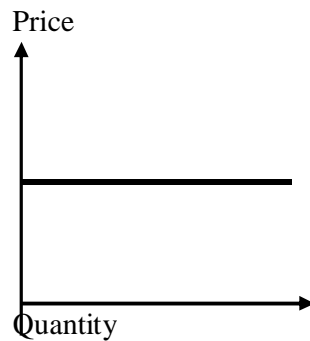
The appropriate equation for the above demand curve is:

- a. $Q = 800 - 20P$
 - b. $Q = 800 - 40P$
 - c. $Q = 800 + 20P$
 - d. $Q = 800 + 40P$
 - e. $Q = 40 - 800P$
7. Suppose your utility in eating rambutans can be measured quantitatively. When eating 10 rambutans your total utility, say, is 400. Your total utility increased to 500 when eating 14 rambutans. Based on these two levels of consumption, it means that:
- a. your total utility becomes 900 accumulatively
 - b. your marginal utility is 100
 - c. your marginal utility is 25
 - d. your average utility is 25
 - e. your average utility is 100
8. In producing its outputs, a company can optimize its production scheme by using:
- a. the available raw materials to produce as many outputs as possible
 - b. more raw materials to produce as many outputs as possible
 - c. more materials in order to produce more outputs
 - d. a least number of raw materials to produce the most number of outputs
 - e. the available materials to produce outputs as many as ordered

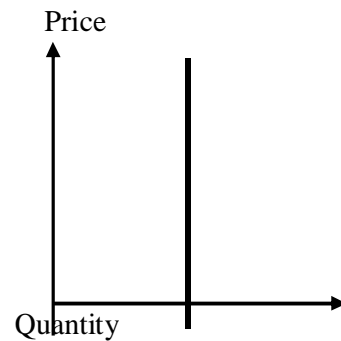
9. Among curves below, define which one is the demand curve faced by a company (producer, trader) in a perfect competition market:



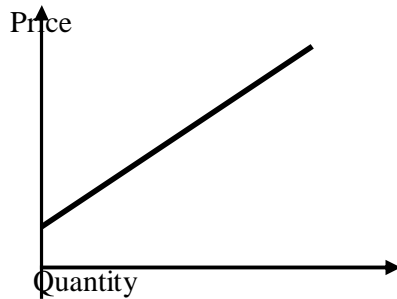
(a)



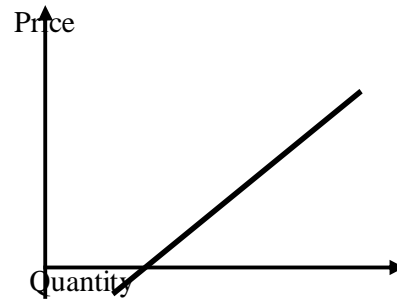
(b)



(c)



(d)



(e)

10. Salon “Jelita” adalah satu-satunya salon kecantikan yang ada di seantero Kecamatan Sukamantap. Akibatnya, pada musim-musim tertentu, penduduk kecamatan itu terpaksa harus antre panjang/lama untuk mempercantik diri. Ditinjau berdasarkan teori struktur pasar, pasar perawatan kecantikan di Sukamantap merupakan:
- pasar monopoli
 - pasar monopsoni
 - pasar jasa
 - pasar tenaga kerja
 - pasar tiban (dadakan)
11. Pak Wiji mempunyai uang Rp. 90.000 yang ingin dibelanjakan untuk barang X seharga Rp. 5.000, dan barang Y seharga Rp. 10.000 per unit. Apabila kepuasan total yang diperoleh dari mengkonsumsi kedua barang tersebut ditunjukkan dengan persamaan $TU = 2X^2 + Y^2$, maka untuk memperoleh kepuasan total (total utility) maksimum, maka kombinasi barang yang dikonsumsi adalah :

- a. Barang X = 2 unit dan barang Y = 8 unit
- b. Barang X = 4 unit dan barang Y = 7 unit
- c. Barang X = 6 unit dan barang Y = 6 unit
- d. Barang X = 8 unit dan barang Y = 5 unit
- e. Barang X = 10 unit dan barang Y = 4 unit

12. Surat berharga di pasar modal yang menunjukkan penyertaan modal dalam suatu perusahaan disebut:
- a. Obligasi
 - b. Reksa Dana
 - c. Saham
 - d. Deposito
 - e. Commercial Paper
13. Di pasar modal Indonesia dikenal pula profesi penunjang pasar modal. Sebutkan diantara berikut yang merupakan profesi penunjang pasar modal:
- a. Perusahaan Efek
 - b. Biro Administrasi Efek
 - c. Wali Amanat
 - d. Penasehat Investasi
 - e. Konsultan Hukum
14. Dalam proses penawaran umum atau go public dikenal suatu dokumen yang berisi semua informasi yang relevan dengan keadaan perusahaan go public. Dokumen tersebut dikenal dengan istilah:
- a. Dokumen Penawaran Umum
 - b. Informasi Penawaran Umum
 - c. Prospektus
 - d. Pernyataan Pendaftaran
 - e. Pernyataan Emitan
15. Istilah yang menunjukkan satuan perdagangan saham adalah:
- a. Fraksi Harga
 - b. Unit Penyertaan
 - c. Unit
 - d. Lot
 - e. Nominal
16. Pasar voucher pulsa "Rembulan" berstruktur persaingan sempurna. Harga nominal perdananya Rp50.000,00. Minggu yang lalu seorang pedagang berhasil menjual 40 unit nomor perdana "Rembulan", sedangkan dalam minggu ini ia berhasil

menjual sebanyak 54 unit. Penerimaan marjinal (marginal revenue) dari minggu yang lalu ke minggu ini adalah....

- a. Rp2.700.000,00
- b. Rp2.000.000,00
- c. Rp700.000,00
- d. Rp100.000,00
- e. Rp50.000,00

17. Seorang pedagang mangga membayar Rp200.000,00 setiap bulan untuk menyewa kios, serta membayar dua orang tenaga yang membantunya dengan upah Rp 300.000,00 per orang per bulan. Mangga dibelinya seharga Rp3.600,00 per kilogram, dan laku dijual dengan harga Rp4.000,00. Berapa kilogram mangga harus berhasil ia jual dalam sebulan agar impas (break-even)?
- a. 2000 kg
 - b. 1250 kg
 - c. 400 kg
 - d. 200 kg
 - e. 125 kg
18. Whatever the structure of the market is, any producer will earn a maximum profit if his or her:
- a. total revenue equals total cost
 - b. average revenue equals average cost
 - c. marginal revenue equals marginal cost
 - d. average revenue equals marginal cost
 - e. marginal revenue equals average cost
19. In terms of types of the business, cooperatives can be classified into:
- a. primary cooperatives and secondary cooperatives
 - b. government cooperatives and community cooperatives
 - c. rural cooperatives and urban cooperatives
 - d. production cooperatives, consumption cooperatives, and savings-borrowings cooperatives
 - e. manufacturing cooperatives and trading cooperatives
20. Salah satu ciri/aturan yang membedakan koperasi dari bentuk-bentuk badan usaha lain seperti Firma dan CV serta PT adalah:

- a.koperasi tidak mengejar keuntungan maksimum
 - b. hak suara anggota koperasi bukan berdasarkan jumlah/nilai saham
 - c.kegiatan usaha-usaha koperasi bebas (tidak dikenai) pajak
 - d. koperasi tidak boleh membuka cabang
 - e.koperasi tidak boleh bekerja sama dengan perusahaan asing
21. National Income data (in billion rupiah) from a country are as follow:
- | | |
|------------------------|--------------|
| Household consumption | Rp. 1.500,00 |
| Investment | Rp. 2.500,00 |
| Government Expenditure | Rp. 4.000,00 |
| Revenue | Rp. 1.050,00 |
| Wages | Rp. 700,00 |
| Rent | Rp. 100,00 |
| Saving | Rp. 2.500,00 |
| Company Profit | Rp. 4.450,00 |
| Export Netto | Rp. 1.200,00 |
- The amount of national income interm of expenditure approach are :
- a. Rp. 3.900,00
 - b. Rp.9.200,00**
 - c. Rp 11.700,00
 - d. Rp. 8.800,00
 - e. Rp 6.300,00
22. National income can reveal the following economic information or economic performances EXCEPT:
- a.the level of welfare of a nation
 - b. the economic progress of a country
 - c.the economic structure of a country
 - d. the economic position of a country compared to other countries
 - e.the distribution of income in a country
23. The formulae of $Y=C+I+G+(X-M)$ in computing gross national product or gross domestic product is based on:
- a.production approach
 - b. income approach
 - c.expenditure approach
 - d. current prices
 - e.constant prices
24. APBN dikatakan defisit apabila:

- a. belanja rutin > penerimaan dalam negeri
 - b. belanja total > penerimaan total
 - c. subsidi kepada daerah > setoran pemerintah daerah
 - d. belanja barang > belanja pegawai
 - e. pembayaran angsuran dan bunga utang > penerimaan pajak
25. Ayat di bawah ini yang BUKAN merupakan pengeluaran atau belanja Pemerintah Daerah (kota/kabupaten) adalah:
- a. belanja pegawai pemerintah daerah
 - b. belanja barang-barang kebutuhan instansi pemerintah daerah
 - c. pembayaran angsuran pokok dan bunga utang luar negeri
 - d. biaya pembangunan sarana dan prasarana daerah setempat
 - e. subsidi-subsidi bagi berbagai lapisan masyarakat tertentu
26. Kebijakan fiskal ialah kebijakan makro-ekonomi yang ditempuh melalui dan dilakukan dengan menggunakan instrumen:
- a. anggaran pendapatan dan belanja negara
 - b. Sertifikat Bank Indonesia
 - c. peraturan perundang-undangan
 - d. Surat Utang Negara
 - e. tingkat bunga, kurs mata uang, dan lalu lintas devisa
27. Di antara pajak-pajak di bawah ini yang tergolong sebagai pajak tak langsung adalah:
- a. pajak penghasilan
 - b. pajak penjualan
 - c. pajak kendaraan bermotor
 - d. pajak bumi dan bangunan
 - e. bea balik nama kendaraan bermotor
28. Salah satu kewenangan Bank Sentral dalam mengatur dan menyelenggarakan sistem pembayaran adalah....
- a. menetapkan peraturan di bidang perbankan
 - b. melakukan pengawasan bank langsung maupun tidak langsung
 - c. mengeluarkan, mengedarkan, menarik dan memusnahkan uang rupiah
 - d. menetapkan peraturan di bidang perbankan

- e. operasi pasar terbuka
29. Independensi yang tinggi menuntut adanya akuntabilitas dan transparansi yang lebih besar, untuk itu Bank Indonesia dalam rangka akuntabilitas wajib menyampaikan laporan tahunan dan tri wulan secara tertulis tentang pelaksanaan tugas dan wewenangnya yang disampaikan kepada
- pemerintah
 - presiden
 - BPKP
 - DPR
 - BPK
30. Berikut ini adalah tujuan dan tugas pokok Bank Indonesia sebagai Bank sentral;
- Menetapkan dan melaksanakan kebijakan moneter.
 - Mengatur dan mengawasi bank
 - mencapai dan memelihara kestabilan nilai rupiah
 - mengatur dan menjaga kelancaran system pembayaran.
 - Menyimpan uang dan menyalurkan kredit kepada masyarakat.
- Yang merupakan tugas pokok Bank Indonesia adalah ...
- 1 , 2 dan 3.
 - 1 , 2 dan 4.
 - 1 , 3 dan 5.
 - 1 , 4 dan 5.
 - 2 , 4 dan 5.
31. Bank Indonesia adalah lembaga Negara yang independen dalam melaksanakan tugas dan wewenangnya, bebas dari campur tangan pemerintah dan mempunyai tujuan
- Mengawasi dan mengatur Bank di Indonesia.
 - Mengatur system pembayaran
 - Mencapai dan memelihara kestabilan nilai rupiah
 - Menyelenggarakan kliring antar bank.
 - Mengatur kebijakan system perbankan.
32. Bank Sentral pada umumnya mempunyai tiga tugas utama. Salah satu tugas utama adalah...
- pengendalian moneter.
 - menghimpun dana dari masyarakat.
 - memberikan pinjaman kepada masyarakat
 - memberikan jasa kepada masyarakat dalam bidang keuangan

- e. membantu membiayai perusahaan dalam penyediaan barang modal
33. Tugas pengendalian moneter dari Bank Sentral dimaksudkan untuk
- a. mengembangkan sistem pembayaran dan infra struktur keuangan yang sehat
 - b. menjaga kesetabilan harga dan / atau pertumbuhan ekonomi
 - c. memajukan perkembangan perkreditan dan perbankan
 - d. mempermudah mencetak dan mengedarkan uang
 - e. menjaga kesetabilan sitem perbankan
34. Salah satu kewenangan Bank Indonesia di dalam tugasnya mengatur dan mengawasi bank adalah:
- a. mengatur sistim kliring dan menyelenggarakan kliring antar bank
 - b. melakukan pengawasan bank secara langsung maupun tidak langsung
 - c. menetapkan penggunaan alat pembayaran
 - d. menetapkan pagu kredit dan suku bunga kredit
 - e. menetapkan giro wajib minimum
35. Terciptanya kestabilan nilai rupiah terhadap barang dan jasa yang diupayakan oleh Bank Sentral diukur dengan atau tercermin pada perkembangan
- a. deflasi
 - b. devaluasi
 - c. depresiasi
 - d. revaluasi
 - e. inflasi
36. Dalam rangka mencapai tujuannya, Bank Indonesia selaku Bank Sentral perlu mengarahkan kebijakannya untuk menyeimbangkan kondisi ekonomi internal dan eksternal. Perwujudan keseimbangan internal adalah....
- a. adanya peningkatan pendapatan masyarakat
 - b. neraca pembayaran luar negeri yang stabil
 - c. terjaganya inflasi pada tingkat yang rendah
 - d. terjaganya nilai tukar rupiah yang cukup kuat dan stabil
 - e. pertumbuhan ekonomi nasional yang terus meningkat.

37. Pada organisasi bank sentral umumnya terdapat badan tertinggi terdiri dari badan pembuat kebijakan, badan pelaksanaan kebijakan dan badan pengawas. Badan pelaksana kebijakan di Bank Indonesia adalah....

- a. gubernur Bank Indonesia
- b. dewan gubernur
- c. deputi gubernur
- d. deputi gubernur senior
- e. rapat dewan gubernur

38. Tiga sektor utama di dalam Organisasi Bank Indonesia

- a. sektor moneter, perbankan, dan anggaran
- b. sektor meneter, budget, dan perbankan
- c. sektor moneter, sistim pembayaran, dan manajemen intern
- d. sektor moneter, perbankan, dan manajemen intern
- e. sektor moneter, perbankan, dan sistim pembayaran

39	MC. Donald menguasai dunia dengan menjual hak franchise ke seluruh dunia. Pembayaran fee untuk franchisor biasanya dibayarkan setahun sekali. Hak franchise tersebut merupakan :								
a	Surat Berharga								
b	Penjualan								
c	Aktiva tidak berwujud								
d	Investasi jangka Panjang								
e	Pendapatan diterima dimuka								

40	Didalam Standar Akuntansi Keuangan (SAK) yang dikeluarkan oleh Ikatan Akuntan Indonesia (IAI) menyebutkan bahwa minimal ada 4 laporan keuangan yang disajikan oleh suatu Perusahaan. Berikut ke 4 jenis laporan keuangan tersebut, kecuali :							
a	Laporan Neraca							
b	Laporan Laba/Rugi							
c	Laporan Harga Pokok Produksi							
d	Laporan Perubahan Modal							
e	Laporan Arus Kas							

41	Berikut adalah saldo akun-akun pada percetakan INDAH WARNA :				
	Kas	Rp. 800.000,.			
	Wesel tagih	Rp. 700.000,.			
	Sewa dibayar dimuka	Rp. 1.000.000,.			
	Bunga diterima dimuka	Rp. 500.000,.			
	Peralatan	Rp. 4.000.000,.			
	Hipotik	Rp. 2.000.000,.			
	Gedung	Rp. 10.000.000,.			
	Berdasarkan data diatas, maka harta lancarnya sebesar :				
	a	Rp. 1.500.000,.			
	b	Rp. 1.800.000,.			
	c	Rp. 2.000.000,.			
	d	Rp. 2.500.000,.			
	e	Rp. 3.000.000,.			

42	Modal akhir suatu Perusahaan Rp 100.000.000. Modal awalnya sebesar Rp 70.000.000. Pengambilan prive Rp 5.000.000, . Dari data ini, dapat diketahui bahwa selama periode tersebut Perusahaan :				
	a	Rugi Rp 25.000.000,.			
	b	Laba Rp 25.000.000,.			
	c	Rugi Rp 35.000.000,.			
	d	Laba Rp 35.000.000,.			
	e	Laba Rp 30.000.000,.			
43	Di neraca saldo, perkiraan beban sewa senilai Rp 1.575.000. Pada tanggal 31 Desember 2005 ada sewa yang belum dibayar senilai Rp 375.000. Maka pada tanggal 1 Januari 2006 dibuat jurnal pembalik :				
	a	Beban Sewa	Rp 375.000		
		Utang Beban Sewa	Rp 375.000		
	b	Utang Beban Sewa	Rp 375.000		
		Beban Sewa	Rp 375.000		
	c	Beban Sewa	Rp 1.575.000		
		Utang Beban Sewa	Rp 1.575.000		
	d	Utang Beban Sewa	Rp 1.575.000		
		Beban Sewa	Rp 1.575.000		
	e	Beban Sewa	Rp 375.000		
		Utang Beban Sewa	Rp 375.000		

44 Perhatikan Jurnal Penerimaan Kas berikut :

JURNAL PENERIMAAN KAS							Hal 2
Tgl	Keterangan	Ref	Debit		Kredit		
Mrt 05			Pot. penjualan	Kas	Serba Serbi	Penjualan	Piutang Usaha
1	Toko Abadi		330.000	10.670.000			11.000.000
5	Pendapatan Bunga			2.000.000	2.000.000		
12	Toko Ceria		300.000	9.700.000			10.000.000
17	Toko Merdeka		270.000	8.730.000			9.000.000
25	Penjualan			20.000.000		20.000.000	
30	Setoran modal			13.000.000	13.000.000		
	JUMLAH		900.000	64.100.000	15.000.000	20.000.000	30.000.000

Posting dari jurnal penerimaan Kas bulan Maret 2005 ke dalam buku besar sbb :

1. Potongan penjualan, debit Rp. 900.000,.
2. Kas, kredit Rp. 64.100.000,.
3. Kas, debit Rp. 64.100.000,.
4. Serba-serbi, kredit Rp. 15.000.000,.
5. Penjualan, kredit Rp. 20.000.000,.
6. Piutang Usaha, kredit Rp. 30.000.000,.
7. Pendapatan Bunga, kredit Rp. 2.000.000,.
8. Modal, kredit Rp. 13.000.000,.

Posting yang benar adalah :

- a 1,2,3,4,5 dan 7
- b 1,2,4,5,6 dan 8
- c 1,4,5,6,7 dan 8
- d 1,3,5,6,7 dan 8
- e 2,3,4,5,6 dan 7

45 Dari pembukuan Bengkel "Sabar-Subur" diperoleh data sbb : Modal akhir tahun 2005 sebesar Rp. 120.000.000, selama tahun 2005 pendapatan yang diperoleh sebesar Rp. 72.000.000, biaya yang dikeluarkan sebesar Rp. 30.000.000, Selain itu sepanjang tahun 2005 pemilik bengkel mengambil uang tunai untuk keperluan pribadi sebesar Rp. 5.000.000, dan melakukan pembelian peralatan Rp. 12.000.000, secara tunai. Maka modal awalnya adalah

- a Rp. 71.000.000,.
- b Rp. 120.000.000,.
- c Rp. 83.000.000,.

d Rp. 192.000.000,.

e Rp. 115.000.000,.

46 Berikut saldo yang terdapat pada salon kecantikan Titi pada per 1 Januari 2005 :

Kas Rp. 5.000.000,.
Piutang Usaha Rp. 400.000,.
Perlengkapan Salon Rp. 1.000.000,.
Peralatan Salon Rp. 1.200.000,.
Utang Bank Rp. 2.700.000,.
Modal Nn. Titi Rp. 4.900.000,.

Transaksi yang terjadi pada bulan Januari 2005 sbb :

Tgl 3 Jan 2005 : Perlengkapan yg masih ada senilai Rp. 600.000

Tgl 10 Jan 2005 : Membayar cicilan utang bank sebesar Rp. 300.000, ditambah bunga Rp. 15.000,.

Dari data diatas, persamaan akuntansi yang benar adalah :

a	Tgl		Kas (rp)	Piutang Usaha	Perleng. Salon	Peralatan salon	Utang Bank	Modal
	Jan	1	5.000.000	400.000	1.000.000	1.200.000	2.700.000	4.900.000
	3	(400.000)		(400.000)				
		5.600.000	400.000	600.000	1.200.000	2.700.000	4.900.000	
	10	(3(315.000))				(300.000)	(15.000)	
		5.285.000	400.000	600.000	1.200.000	2.400.000	4.885.000	

b	Tgl		Kas (rp)	Piutang Usaha	Perleng. Salon	Peralatan salon	Utang Bank	Modal
	Jan	1	5.000.000	400.000	1.000.000	1.200.000	2.700.000	4.900.000
	3			(400.000)			(400.000)	
		5.000.000	400.000	600.000	1.200.000	2.700.000	4.500.000	
	10	(3(315.000))				(300.000)	(15.000)	
		4.685.000	400.000	600.000	1.200.000	2.400.000	4.485.000	

c	Tanggal		Kas (rp)	Piutang Usaha	Perleng. Salon	Peralatan salon	Utang Bank	Modal
	Jan	1	5.000.000	400.000	1.000.000	1.200.000	2.700.000	4.900.000
	3			(400.000)			(400.000)	
		5.000.000	400.000	600.000	1.200.000	2.700.000	4.500.000	

		10	(3(315.000))				(315.000)	
			4.685.000	400.000	600.000	1.200.000	2.385.000	4.500.000
d	Tanggal		Kas (rp)	Piutang Usaha	Perlengk. Salon	Peralatan salon	Utang Bank	Modal
	Jan	1	5.000.000	400.000	1.000.000	1.200.000	2.700.000	4.900.000
		3			(600.000)			(600.000)
			5.000.000	400.000	400.000	1.200.000	2.700.000	4.300.000
		10	(3(315.000))				(300.000)	(15.000)
			4.685.000	400.000	400.000	1.200.000	2.400.000	4.285.000
e	Tanggal		Kas (rp)	Piutang Usaha	Perlengk. Salon	Peralatan salon	Utang Bank	Modal
	Jan	1	5.000.000	400.000	1.000.000	1.200.000	2.700.000	4.900.000
		3	(600.000)		(600.000)			
			4.400.000	400.000	400.000	1.200.000	2.700.000	4.900.000
		10	(3(315.000))				(315.000)	
			4.085.000	400.000	400.000	1.200.000	2.385.000	4.900.000

47 Pada tanggal 1 Agustus 2005 Perusahaan membayar beban sewa gudang sebesar Rp. 24.000.000, untuk masa 1 tahun. Pengeluaran itu dicatat dengan mendebit rekening beban sewa. Oleh karena itu pada tanggal 1 jan 2006 harus membuat jurnal pembalik sbb :

a	Beban Sewa	Rp. 12.000.000,.
	Sewa dibayar dimuka	Rp. 12.000.000
b	Beban Sewa	Rp. 14.000.000,.
	Sewa dibayar dimuka	Rp. 14.000.000
c	Sewa dibayar dimuka	Rp. 14.000.000,.
	Beban Sewa	Rp. 14.000.000
d	Sewa dibayar dimuka	Rp. 10.000.000,.
	Beban Sewa	Rp. 10.000.000,.
e	Beban Sewa	Rp. 10.000.000,.
	Sewa dibayar dimuka	Rp. 10.000.000,.

48 Mr Eddy earned a salary \$1,000 for the last week of June. He will be paid on July 1. The adjusting entry for Mr. eddy employer at June 30 is

- a Salaries expense \$1,000
 Salaries payable \$1,000
- b Salaries expense \$1,000
 Cash \$1,000
- c Salaries payable \$1,000
 Cash \$1,000
- d Salaries payable \$1,000
 Salaries expense \$1,000
- e Salaries expense \$1,000
 Account payable \$1,000

49 Tanggal 15 April 2005 Toko Maju Jaya membayar dengan cek untuk pelunasan faktur tertanggal 8 April 2005 senilai Rp 30.000.000 syarat pembayaran 2/10,n/30 kepada UD Sejahtera. Transaksi ini oleh masing-masing pihak dicatat sebagai berikut :

		Toko Maju Jaya		UD. Sejahtera	
a	18/4/05	Utang Usaha	Rp. 30.000.000	Kas	Rp.29.400.000
		Pot.Penjualan	Rp. 600.000	Pot.Penjualan	Rp.600.000
		Kas	Rp29.400.000	Piutang Usaha	Rp.30.000.000

		Toko Maju Jaya		UD. Sejahtera	
b	18/4/05	Kas	Rp.29.400.000	Utang Usaha	Rp.29.400.000
		Pot.Penjualan	Rp. 600.000	Pot.Penjualan	Rp.600.000
		Piutang Usaha	Rp. 30.000.000	Kas	Rp.30.000.000

		Toko Maju Jaya		UD. Sejahtera	
c	18/4/05	Utang Usaha	Rp.29.400.000	Kas	Rp.30.000.000

		Pot.Pembelian	Rp. 600.000		Pot.Penjualan	Rp.600.000
		Kas	Rp. 30.000.000		Piutang Usaha	Rp.29.400.000

		Toko Maju Jaya		UD. Sejahtera		
d	18/4/05	Utang Usaha	Rp. 30.000.000	Kas	Rp.29.400.000	
		Pot.Pembelian	Rp. 600.000	Pot.Penjualan	Rp.600.000	
		Kas	Rp29.400.000	Piutang Usaha	Rp.30.000.000	

		Toko Maju Jaya		UD. Sejahtera		
e	18/4/05	Piutang Usaha	Rp. 30.000.000	Kas	Rp.29.400.000	
		Pot.Penjualan	Rp. 600.000	Pot.Penjualan	Rp.600.000	
		Kas	Rp29.400.000	Utang Usaha	Rp.30.000.000	

50 Saldo beberapa akun pada UD Merapi per 31 Desember 2005 sebelum penutupan adalah :

Kas	Rp. 12.600.000,.
Piutang Usaha	Rp. 18.200.000,.
Persediaan Barang Dagangan	Rp. 11.350.000,.
Perlengkapan Toko	Rp. 6.000.000,.
Tanah	Rp. 40.000.000,.
Utang Usaha	Rp. 9.400.000,.
Modal	Rp. 43.050.000
Penjualan	Rp. 120.000.000,.
Pembelian	Rp. 42.600.000,.
Potongan Penjualan	Rp. 10.000.000,.
Potongan Pembelian	Rp. 4.300.000,.
Beban Angkut Pembelian	Rp. 4.200.000,.
Beban gaji	Rp. 24.000.000
Beban Pemasaran	Rp. 3.000.000,.
Beban lain-lain	Rp. 1.500.000,.

Apabila nilai persediaan barang dagangan pada 1 januari 2005 senilai Rp. 10.450.000, maka harga pokok penjualan periode 2005 adalah :

- a Rp. 68.400.000,.
- b Rp. 43.400.000,.
- c Rp. 37.400.000,.
- d Rp. 50.200.000,.

e Rp. 41.600.000